

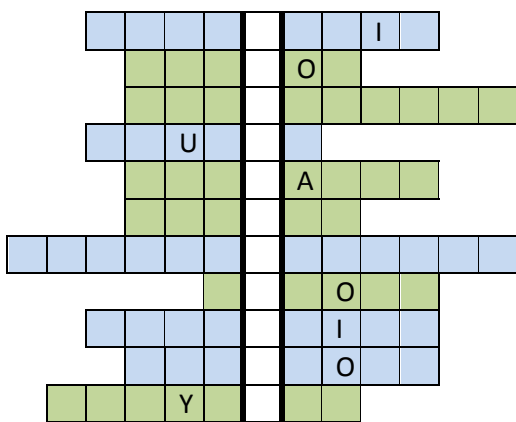


.....  
imię i nazwisko

.....  
klasa

1. Uzupełnij tabelę.

Bóg grecki	Bóg rzymski	Czym się opiekował?
Ares		
	Jowisz	
Afrodyta		bogini miłości, piękna
Posejdon		władca mórz i oceanów



2.

Wpisz do diagramu podane określenia emocji i zachowań (w zielonych polach będą to wyrazy o charakterze pozytywnym, w niebieskich – negatywnym). Po wpisaniu rozwiązania w miejsce kropek dowiesz się, co robi niezwykły bohater wielu książek dla dzieci. Pomaga mu w tym czarodziejski pierścień, innym razem zaczarowana kula.


**antypatia, dobroć, litość, miłość, nienawiść, przyjaźń, smutek,  
sympatia, zazdrość, zdenerwowanie, życzliwość**

..... przyszłość

3. Drewniany nos Pinokia ma długość 3 cm. Ilekroć Pinokio skłamię, długość jego nosa podwaja się. Jaką długość będzie miał jego nos po 6 kłamstwach?

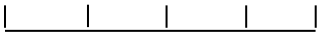
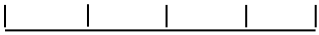
4. Nasze zdrowie zależy w dużym stopniu od naszego **postępowania** – od naszego trybu życia, odżywiania, umiejętności radzenia sobie ze stresem, uprawiania sportu itp.

Rozwiąż rebus:



Rozwiązanie: .....

5. Uzupełnij tabelę:.

Skala liczbowa	Skala mianowana	Podziałka liniowa
1 : 20 000 000	1 cm – ..... cm 1 cm – ..... m 1 cm – ..... km	
	1 cm – ..... cm 1 cm – 60 m 1 cm – ..... km	
	1 cm – ..... cm 1 cm – ..... m 1 cm – ..... km	